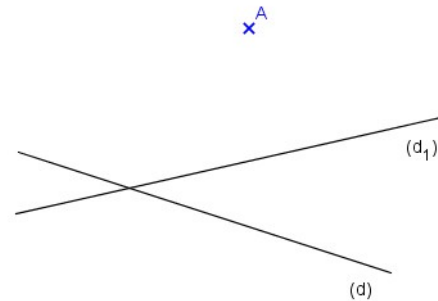
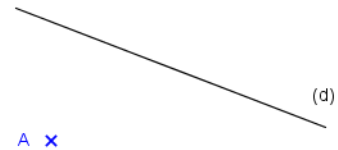
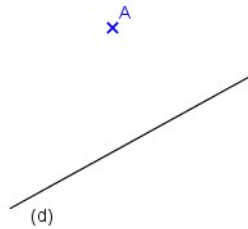


Exercice

Pour toutes les figures suivantes, tracer à l'aide de l'équerre et de la règle, la droite parallèle à la droite (d) passant par le point A.



Correction :

